

Итоговая проверочная работа по математике

1 класс

Фамилия _____ Имя _____ Класс _____

Инструкция по выполнению работы

На выполнение работы по математике даётся 45 минут. Работа включает в себя 14 заданий.

Ответы на задания запиши в работе. Если ты хочешь изменить ответ, то зачеркни его и запиши рядом новый.

При выполнении работы не разрешается пользоваться учебником, рабочими тетрадями, справочными материалами.

При необходимости можно пользоваться черновиком. Записи в черновике проверяться и оцениваться не будут.

Советуем выполнять задания в том порядке, в котором они даны. Для экономии времени пропускай задание, которое не удаётся выполнить сразу, и переходи к следующему. Постарайся выполнить как можно больше заданий.

Желаем успеха!

1. Даны числа: 7, 15, 18, 2, 9, 11, 4.

Расположи их в порядке возрастания. Запиши ответ.

Ответ: _____

2. Найди значения выражений. Запиши ответ.

1) $3 + 5 =$ _____

2) $9 - 7 =$ _____

3. Найди значения выражений. Запиши ответ.

1) $12 + 4 =$ _____

2) $20 - 10 =$ _____

4. Сравни чашки и блюда по их количеству. Результат запиши с помощью знаков $>$, $<$ или $=$.

1)



2)



5. Реши задачу.

За один день в магазине продали 3 куртки и 7 плащей. На сколько меньше курток продали, чем плащей? Обведи в кружок номер правильного ответа.

1) на 3 куртки


3) на 5 курток

2) на 4 куртки

4) на 10 курток

6. Маша решила сделать аппликацию из геометрических фигур. У неё получился вот такой цыплёнок.

Из каких геометрических фигур состоит Маша аппликация?



Обведи в кружок номер правильного ответа.

1) из овалов и треугольников

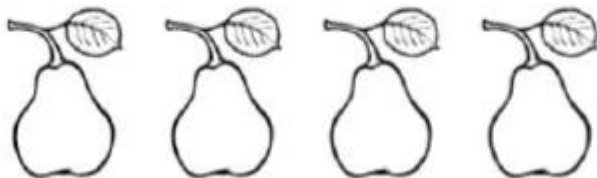

3) из кругов и четырехугольников

2) из кругов и треугольников

4) из треугольников и четырехугольников

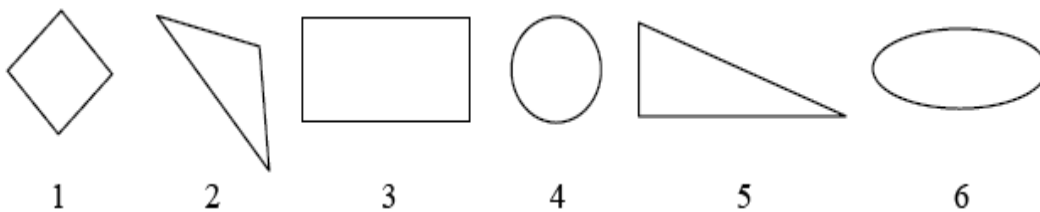
7. Рассмотрй рисунок.

Мама купила в магазине яблоки и груши. На сколько яблок больше, чем груш? Запиши ответ.



Ответ: _____

8. Рассмотрите изображённые ниже геометрические фигуры.



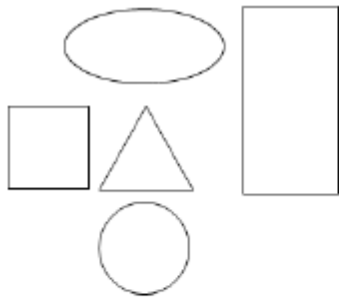
Обведи в кружок номер верного утверждения.

- 1) фигуры под номерами 4 и 6 – круги
- 2) фигуры под номерами 1 и 2 – треугольники
- 3) фигуры под номерами 3 и 5 – прямоугольники
- 4) фигуры под номерами 1 и 3 – четырехугольники

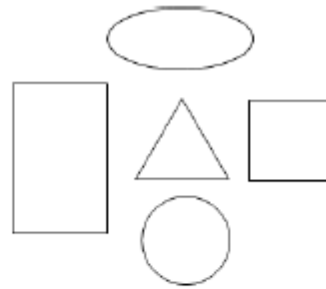
9. Выбери число, которое меньше 18, но больше 12 на 2. Обведи в кружок номер правильного ответа.

- 1) 10 2) 14 3) 16 4) 20

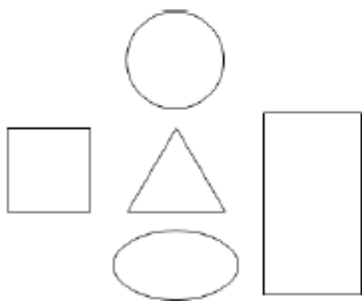
10. Обведи кружком номер картинке, на которой треугольник нарисован справа от квадрата и под кругом, а овал нарисован под треугольником и слева от прямоугольника.



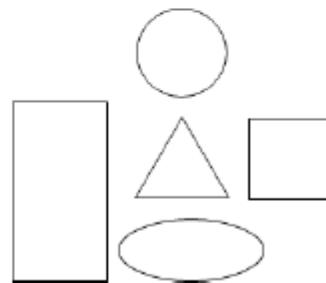
1



3



2



4

ДОПОЛНИТЕЛЬНАЯ ЧАСТЬ

11. Реши задачу.

Папа купил карандаши. Карандашей больше 14, но меньше 17. Сколько карандашей мог купить папа? Запиши ответ.

Ответ: _____

12. Зина сложила несколько одинаковых чисел и получила в ответе 10. Что это за числа? Приведи ДВА примера.

Решение 1: _____

Решение 2: _____

