

**Контрольная работа по географии в 5 классе за первое полугодие
по темам «Наука география», «Земля и ее изображения», «История географических
открытий»**

Пояснительная записка.

Контрольная работа предназначена для оценки уровня общеобразовательной подготовки по географии учащихся 5 класса общеобразовательных учреждений, изучающих школьный курс географии на базовом уровне.

Цель контрольной работы: закрепить и обобщить полученные знания по темам «Наука география», «Земля и ее изображения», «История географических открытий»

Задача проводимой контрольной работы – проверить географические знания на базовом, повышенном и высоком уровне, а так же способность применить знания и умения в контекстах, соответствующих изученным разделам курса географии в 5 классе («Наука география», «Земля и ее изображения», «История географических открытий»)

Часть А содержит 10 заданий с выбором одного верного ответа из четырех предложенных (надо обвести кружком букву, соответствующую верному ответу). – 1 балл за каждый правильный ответ.

Часть Б содержит 4 задания: установление соответствия (полученный ответ надо записать в отведенном для этого месте) – 4 балла за каждый правильный ответ.

Рекомендуемая оценка работ:

1 – 9 баллов

10-14 баллов

15-18 баллов

19-21 баллов

ЧАСТЬ А

1. Первым ввел термин «география»:

- А – Пифагор.
- Б – Эратосфен.
- В – Аристотель.

Ответ: _____.

2. Следствием вращения Земли вокруг Солнца является:

- А - смена времен года.
- Б - смена дня и ночи.
- В - солнечная активность.

Ответ: _____.

3. 4. Карта – это:

- А - модель Земли.
- Б - модель Солнца.
- В - плоский чертеж земной поверхности.

Ответ: _____.

4. Одним из известнейших исследователей Древней Греции был ученый, который в 355 г. до н.э. пересек Гибралтарский пролив, достиг Британских островов, Скандинавского полуострова, Исландии и достиг северного Полярного круга.

- А - Геродот.
- Б – Пифей.
- В – Марко Поло.

5. Первым из европейцев, совершившим путешествие в Китай, является:

- А - Марко Поло.
- Б – Афанасий Никитин.
- В – Васко да Гама.

Ответ: _____.

6. Книга «Хождение за три моря» описывает путешествия:

- А- Марко Поло. Б- Афанасия Никитина. В- Генриха Мореплавателя.

7. Воображаемая линия, находящаяся на уровне глаз наблюдателя на открытой местности называется

- А) линией горизонта.
- Б) экватором.
- В) земной осью.

8. Первые предположения о шарообразности Земли были выдвинуты в

- А) Древнем Китае.
- Б) Древней Руси.
- В) Древней Индии.

8. Первым ученым, выдвинувшим гипотезу о шарообразности Земли, был

- А) Птолемей.
- Б) Пифагор.
- В) Пифей.

10. Дополните утверждения:

Ориентирование – это

Компас – это

Часть Б:

1. Установите соответствие между названием метода исследования и утверждением, его характеризующим.

Ответ разместите в таблицу:

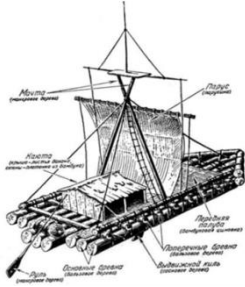


2. Расставьте планеты Солнечной системы по мере увеличения расстояния от них до Солнца. Запишите полученную последовательность.

1. Сатурн.
2. Нептун.
3. Меркурий.
4. Земля.
5. Марс.
6. Юпитер.
7. Уран.
8. Венера.

Ответ: _____.

3. Кто на каком судне путешествовал. Соотнесите цифру и букву

Ответ разместите в таблицу:

 <p>1</p>	 <p>2</p>	 <p>3</p>

Расставьте путешествия в хронологическом порядке.

А) путешествие Васко да Гамы вокруг Африки в Индию.

Б) хождение за три моря Афанасия Никитина.

В) первое кругосветное плавание экспедиции под руководством Фернана Магеллана.

Вариант 2
Фамилия, имя

ЧАСТЬ А

1. **Основоположителем науки географии является:**
А - Пифей
Б - Геродот
В – Аристотель
Ответ: _____.
2. **Какой из перечисленных методов исследования был недоступен древним ученым?**
А - описательный
Б - картографический
В - космический
Ответ: _____.
3. **Следствием осевого вращения Земли является**
А - смена времен года
Б - смена дня и ночи
В - солнечная активность
Ответ: _____.
4. **Земля это:**
А - шар
Б - эллипсоид
В – круг
Ответ: _____.
5. **Египетский фараон Нехо II поручил финикийцам узнать, велика ли страна Ливия (Африка). Их плавание вокруг Африки длилось:**
А - 3 года
Б - 5 лет
В - 1 год
Ответ: _____.
6. **Как назывался плот на котором Тур Хейердал и его команда доказали теоретическую возможность пересечения Тихого океана южноамериканскими индейцами.**
А - Санта-Мария
Б - Кон-Тики
В - Коста-Рика
Ответ: _____.
7. **Первым из европейцев, совершившим путешествие в Китай, является**
А – Марко Поло.
Б – Афанасий Никитин.
В - Васко да Гама.
Ответ: _____.
8. **Первые предположения о шарообразности Земли были выдвинуты в**
А) Древнем Китае.
Б) Древней Руси.
В) Древней Индии. **Ответ: _____.**
9. **Первым ученым, выдвинувшим гипотезу о шарообразности Земли, был**
А) Птолемей.

Б) Пифагор.

В) Пифей.

Ответ: _____.

10. Дополните утверждения:

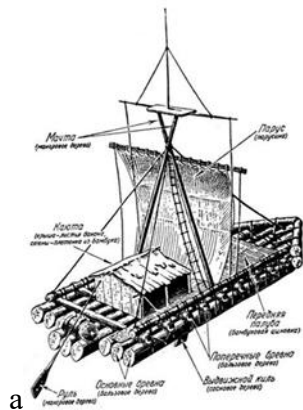
Ориентирование – это

Компас – это

Географическая карта – это

ЧАСТЬ Б

1. Кто на каком судне путешествовал. Соотнесите портрет путешественника с его судном



Ответ разместите в таблицу:

1 - _____	2 - _____	3 - _____
-----------	-----------	-----------

2. Установите соответствие между именем ученого и сделанным им географическим открытием.

1. Пифагор	3. Аристотель	4. Эратосфен
А) вычислил размеры Земли	Б) выдвинул гипотезу о шарообразности Земли	В) предложил доказательства о шарообразности Земли.

3. Установите соответствие между понятием и относящимся к нему определением.

1. Сторона восхода Солнца
2. Сторона Солнца в полдень
3. Закат Солнца
4. Сторона Полярной звезды

Установите соответствие между сторонами горизонта и ее видом.

- А - север
- Б – юг
- В – восток
- Г - запад

ЧАСТЬ А

1. Первым ввел термин «география»:

А – Пифагор.

Б – Эратосфен.

В – Аристотель.

Ответ: _____.

2. Следствием вращения Земли вокруг Солнца является:

А - смена времен года.

Б - смена дня и ночи.

В - солнечная активность.

Ответ: _____.

3. 4. Карта – это:

А - модель Земли.

Б - модель Солнца.

В - плоский чертеж земной поверхности.

Ответ: _____.

4. Одним из известнейших исследователей Древней Греции был ученый, который в 355 г. до н.э. пересек Гибралтарский пролив, достиг Британских островов, Скандинавского полуострова, Исландии и достиг северного Полярного круга.

А - Геродот.

Б – Пифей.

В – Марко Поло.

5. Первым из европейцев, совершившим путешествие в Китай, является:

А - Марко Поло.

Б – Афанасий Никитин.

В – Васко да Гама.

Ответ: _____.

6. Книга «Хождение за три моря» описывает путешествия:

А- Марко Поло. Б - Афанасия Никитина. В- Генриха Мореплавателя.

7. Воображаемая линия, находящаяся на уровне глаз наблюдателя на открытой местности называется

А) линией горизонта.

Б) экватором.

В) земной осью.

8. Первые предположения о шарообразности Земли были выдвинуты в

А) Древнем Китае.

Б) Древней Руси.

В) Древней Индии.

8. Первым ученым, выдвинувшим гипотезу о шарообразности Земли, был

А) Птолемей.

Б) Пифагор.

В) Пифей.

10. Дополните утверждения:

Ориентирование – это определение своего местоположения относительно сторон горизонта.

Компас – это прибор, с помощью которого можно ориентироваться.

Географическая карта – уменьшенное изображение земной поверхности на плоскости.

Часть Б:


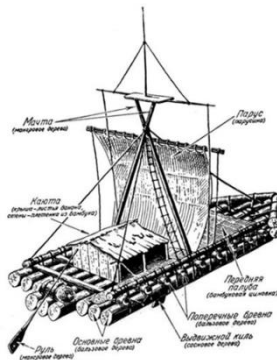
1. Установите соответствие между названием метода исследования и утверждением, его характеризующим.

Ответ разместите в таблицу: Расставьте планеты Солнечной системы по мере увеличения расстояния от них до Солнца. Запишите полученную последовательность.

1. Сатурн.
2. Нептун.
3. Меркурий.
4. Земля.
5. Марс.
6. Юпитер.
7. Уран.
8. Венера.

Ответ: в.з.г.д. е.а. ж.б.

3. Кто на каком судне путешествовал. Соотнесите цифру и букву



Ответ разместите в таблицу:

Расставьте путешествия в хронологическом порядке.

- А) путешествие Васко да Гамы вокруг Африки в Индию.
- Б) хождение за три моря Афанасия Никитина.
- В) первое кругосветное плавание экспедиции под руководством Фернана Магеллана.

Ответ: б, а, в.

Вариант 2
Фамилия, имя

ЧАСТЬ А

1. **Основоположником науки географии является:**
А - Пифей
Б - Геродот
В – Аристотель
Ответ: _____.
2. **Какой из перечисленных методов исследования был недоступен древним ученым?**
А - описательный
Б - картографический
В - космический
Ответ: _____.
3. **Следствием осевого вращения Земли является**
А - смена времен года
Б - смена дня и ночи
В - солнечная активность
Ответ: _____.
4. **Земля это:**
А - шар
Б - эллипсоид
В – круг
Ответ: _____.
5. **Египетский фараон Нехо II поручил финикийцам узнать, велика ли страна Ливия (Африка). Их плавание вокруг Африки длилось:**
А - 3 года
Б - 5 лет
В - 1 год
Ответ: _____.
6. **Как назывался плот на котором Тур Хейердал и его команда доказали теоретическую возможность пересечения Тихого океана южноамериканскими индейцами.**
А - Санта-Мария
Б - Кон-Тики
В - Коста-Рика
Ответ: _____.

7. **Первым из европейцев, совершившим путешествие в Китай, является**

А – Марко Поло.

Б – Афанасий Никитин.

В - Васко да Гама.

Ответ: _____.

8. **Первые предположения о шарообразности Земли были выдвинуты в**

А) Древнем Китае.

Б) Древней Руси.

В) Древней Индии.

Ответ: _____.

9. **Первым ученым, выдвинувшим гипотезу о шарообразности Земли, был**

А) Птолемей.

Б) Пифагор.

В) Пифей.

Ответ: _____.

10. **Дополните утверждения:**

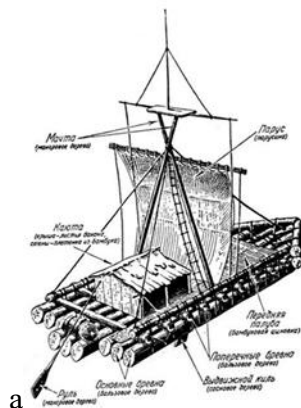
Ориентирование – это определение своего местоположения относительно сторон горизонта.

Компас – это прибор, с помощью которого можно ориентироваться.

Географическая карта– уменьшенное изображение земной поверхности на плоскости.

ЧАСТЬ Б

1. **Кто на каком судне путешествовал . Соотнесите портрет путешественника с его судном**



Ответ разместите в таблицу:

Установите соответствие между именем ученого и сделанным им географическим открытием.

Пифагор

а

вычислил размеры Земли

2

Аристотель

выдвинул гипотезу о шарообразности Земли

б

3

Эратосфен

в

предложил доказательства о шарообразности Земли.

1.Б

2.В

3.А

3. Установите соответствие между понятием и относящимся к нему определением.

1. Г

2. В

3. А

4.Б

Установите соответствие между сторонами горизонта и ее видом.

