

Итоговая проверочная работа по технологии

3 класс

Фамилия _____ Имя _____ Класс _____

Инструкция по выполнению работы

На выполнение работы по технологии даётся 40 минут. Работа включает в себя 15 заданий.

Ответы на задания запиши в работе. Если ты хочешь изменить ответ, то зачеркни его и запиши рядом новый.

При выполнении работы не разрешается пользоваться учебником, справочными материалами.

Советуем выполнять задания в том порядке, в котором они даны. Для экономии времени пропускай задание, которое не удаётся выполнить сразу, и переходи к следующему. Постарайся выполнить как можно больше заданий.

Желаем успеха!

1. Компьютер - это...

А – сложная игрушка

Б – сложная машина

2. Сколько времени можно работать на компьютере без вреда для здоровья?

А – без перерыва не более двух часов

Б - можно работать целый день

3. Соедини операцию с прибором, который её выполняет:

сложные вычисления

мобильный телефон

связь на дальних расстояниях

электронная касса

демонстрация изображения и звука

микроволновая печь

приготовление пищи по выбранной или заданной программе

калькулятор

учёт и продажа товаров

телевизор

4. Выбери и выпиши названия материалов, с которыми работает скульптор: Краски, гранит, мрамор, стекло, металл, глина, бумага.

5. Выпиши только виды скульптур: Большие, средние, космические, статуэтки, рельефы, круглые, деревянные.

6. Какими приёмами пользуется скульптор?

лепка

раскрашивание

вдавливание

вырезание

шивание

налеп

высекание

процарапывани

7. Запиши номер рисунка, на котором изображён барельеф


1






2



3



8. Выбери строчки, которые лучше использовать для соединения деталей изделия

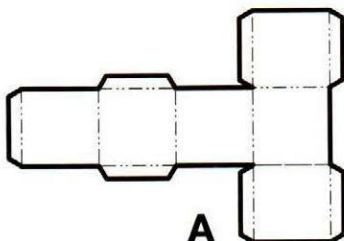


9. Какой способ закрепления нитки используется

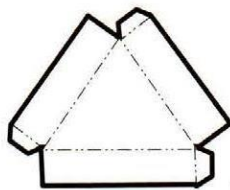
при вышивании _____

при шивании _____

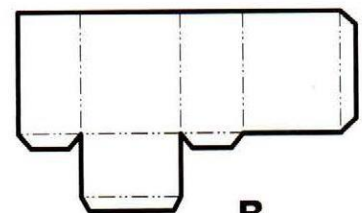
10. Выбери из всех рисунков развертку куба: _____



А

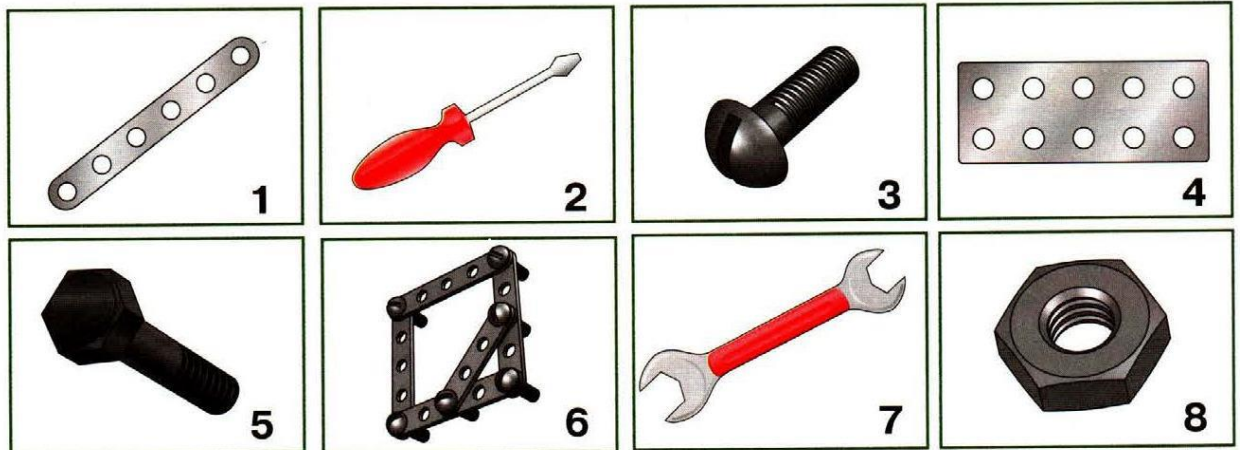


Б



В

11. Найди крепёжные детали. Выпиши номера рисунков, на которых они изображены.



12. Какие художественные средства изобразительного искусства использует декоратор?

- цвет линия
 крепёжные детали симметрия
 тон форма

13. Распредели приведённые ниже слова по колонкам.

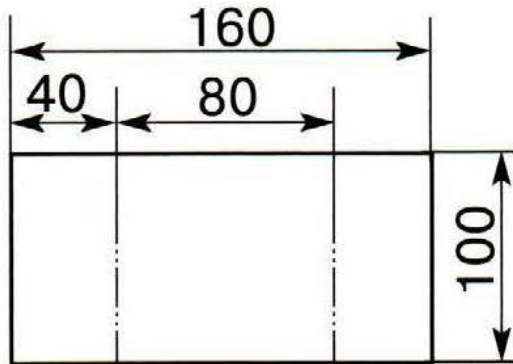
Распредели приведённые ниже слова по колонкам.

Материалы	Инструменты	Приспособления

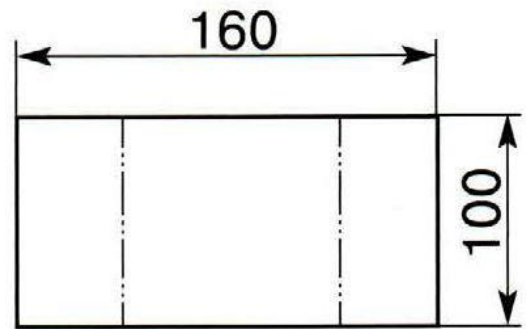
Лекало, гофрокартон, циркуль, хлопчатобумажная ткань, шаблон, булавки, игла, ножницы, винт с гайкой, бархатная бумага, кружево, угольник, пальцы, картон, линейка, нитки, цветная бумага.

Что в перечне лишнее? _____

14. По какому чертежу можно выполнить заготовку изделия? Запиши его номер.

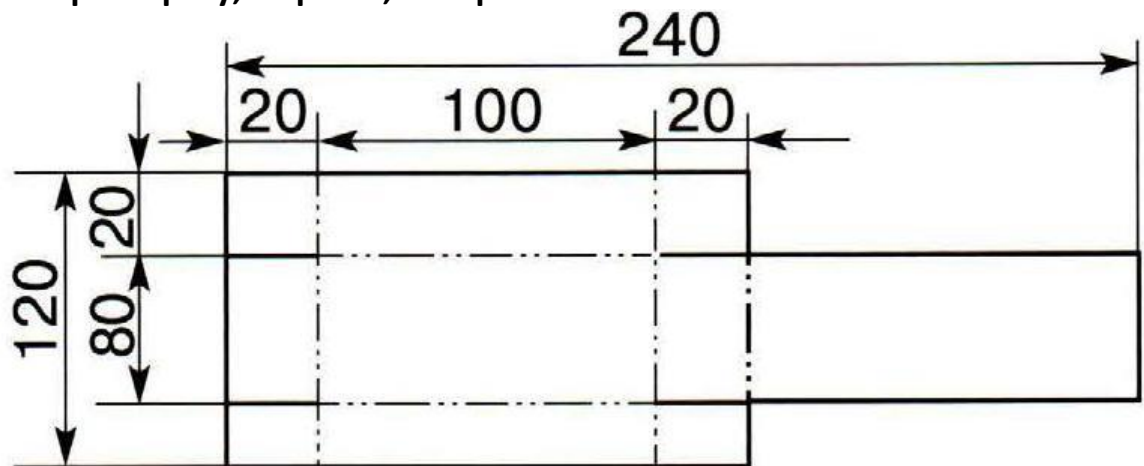


1



2

15. Рассмотрите чертёж развёртки. Запишите название изделия.
Разметьте развёртку, вырежьте, соберите.



Разметьте развёртку, вырежьте, соберите.