

Итоговая проверочная работа по математике

3 класс

Фамилия _____ Имя _____ Класс _____

Инструкция по выполнению работы

На выполнение работы по математике даётся 45 минут. Работа включает в себя 11 заданий.

Ответы на задания запиши в работе. Если ты хочешь изменить ответ, то зачеркни его и запиши рядом новый.

При выполнении работы не разрешается пользоваться учебником, рабочими тетрадями, справочными материалами.

При необходимости можно пользоваться черновиком. Записи в черновике проверяться и оцениваться не будут.

Советуем выполнять задания в том порядке, в котором они даны. Для экономии времени пропускай задание, которое не удаётся выполнить сразу, и переходи к следующему. Постарайся выполнить как можно больше заданий.

Желаем успеха!

6. Найди значение числового выражения:

$$120 + 120 : 6 - 40 : 10$$

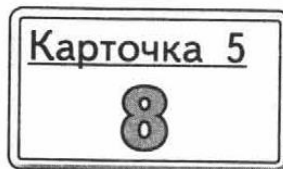
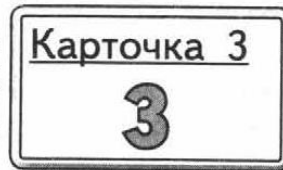
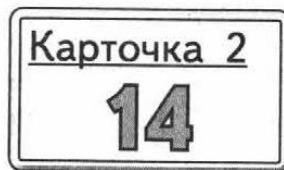
Отметь верный ответ: А) 0 Б) 36 В) 130 Г) 136

7. В магазин привезли 81 кг вишни. Продали 8 ящиков по 9 кг в каждом.

Сколько килограммов вишни осталось?

Отметь верный ответ: А) 7 Б) 8 В) 10 Г) 9

8. Рассмотрите карточки с числами.



Маша распределила все эти карточки на три группы так, чтобы числа на карточках каждой группы имели одно общее свойство. Определи и запиши общее свойство для каждой группы карточек с числами.

Группа 1: карточки № 1, 4.

Свойство: _____

Группа 2: карточки № 2, 5.

Свойство: _____

Группа 3: карточки № 3, 6.

Свойство: _____

9. Начерти с помощью карандаша и линейки ломаную линию из 5 звеньев, не равных по длине, если известно, что сумма длин всех звеньев равна 2 дм 1 см

Чертёж

10. Преобразуй величины:

$$6 \text{ м } 3 \text{ см} = \underline{\hspace{2cm}} \text{ см}$$

$$7 \text{ руб.} = \underline{\hspace{2cm}} \text{ коп.}$$

$$2 \text{ ч } 15 \text{ мин} = \underline{\hspace{2cm}} \text{ мин}$$

11. Длина прямоугольника 5 см, ширина на 2 см меньше. Вычисли периметр и площадь прямоугольника.

